

Quiz JN 19-3: 19.30 – 20.30 uur

19.30: Ronde 1

- Social media
- Foto's raden
- Sport

20.00: Ronde 2

- Van alles wat
- Raadsels
- Jong Nederland Heusden

1. Social media

1.1: Van welk sociaal medium was dit ooit het logo:



Hyves

1.2: Welke voetballer heeft de meeste volgers op Instagram?

Cristiano Ronaldo

1.3: Wie van de leiding van Jong Nederland Heusden heeft de meeste volgers op Instagram?

1.4: Waar of niet waar: Whatsapp was oorspronkelijk alleen voor iPhones?

Waar

1.5: Voor welke ziekte werd er geld opgehaald met de "Ice Bucket Challenge"?

ALS

1.6: Hoeveel dagen zitten er tussen de oprichting van Instagram en de oprichting van Snapchat?

275 dagen

2. Foto's: wat is er hier van dichtbij gefotografeerd?



Kiwi




Schoenveter/nestel




Deegroller



Afstandsbediening



Pen




Klok



2.7

Geodriehoek



2.8

Cactus



2.9

Haar



2.10

Mes



2.11

Sleutel

3. Sport

3.1: Hoeveelste werd Nederland op het WK voetbal in 2014?

3^e

3.2: In welk land zijn de Olympische Spelen dit jaar, als deze doorgaan?

Japan

3.3: Hoeveelste werd Sven Kramer op de 5.000 meter bij de wereldbekerwedstrijd in Minsk, afgelopen jaar?

13^e

3.4: Wat is het minimale aantal pijltjes dat je nodig hebt bij darten om 501 punten te gooien?

9

3.5: Hoeveel veldspelers zijn er per team bij onderwaterhockey?

6

3.6: Hoeveel kegels zijn er bij een normaal potje bowlen?

10

3.7: Hoeveel formule-1-races reed Max Verstappen in 2019?

21

4. Van alles wat

4.1: Hoe vaak kun je normaal A4-papier dubbel vouwen?

6 of 7 keer

4.2: In welk land komen de meeste vogelbekdieren voor?

Australië

4.3: Zijn er meer fietsen of meer koeien in Nederland?

Fietsen

4.4: Welke taal is dit, en wat staat er als je het naar Nederlands vertaalt:

“Jong Nederland Heusden” es la mejor asociación en Holanda!

Spaans: Jong Nederland Heusden is de beste/leukste vereniging in/van Nederland!

Opdracht: maak een selfie met zoveel mogelijk rollen wc-papier

5. Raadsels

5.1: Er zijn 8 koekjes. Alle koekjes hebben hetzelfde gewicht, alleen is er één zwaarder. Je hebt een balansschaal tot je beschikking. Wat is het minimum aantal keer dat je moet wegen om de zwaarste donut met zekerheid er uit te halen? (de koekjes zien er exact hetzelfde uit)

2 keer

5.2: Wat is het volgende getal in deze reeks: 1, 1, 2, 3, 5, 8, 13, ..

21

5.3: Wat is er wel in januari, februari, juni, juli, augustus, en niet in de andere maanden?

De letter "u"

5.4: Iemand zegt dat hij 5 armen heeft en 10 benen. Wat is hij?

Een leugenaar

5.5: Wat krijg je als je de getallen 1, 2, 3, 4, 5,, 50 optelt?

1275

5.6: Wat is het grootst priemgetal kleiner dan 10?

7

6. Jong Nederland Heusden

6.1: Waar zijn we in 2015 op kamp geweest?

Budel

6.2: Hoeveel jaar bestond Jong Nederland Heusden vorig jaar?

70

6.3: Wie is de jongste leiding bij Jong Nederland Heusden?

Opdracht: Ga op de foto met een Jong Nederland Heusden trui